



آزمون های استخدامی، سوالات کنکور، جزوات درسی، پاورپوینت،
پروژه کارآفرینی، مقالات علمی پژوهشی، مقالات ترجمه شده و ...

سؤالات آزمون های استخدامی

بانک رفاه – سال ۸۵ و ۸۷

مقطع کاردانی و کارشناسی

زبان و ادبیات فارسی

۱. کدام گزینه از آثار ملک‌الشعرای بهار است؟
 (۱) دختر سروان (۲) چرند و پرند (۳) روزنامه نوبهار (۴) وزن شعر فارسی
۲. در جمله «برادرم ایستاده بود و نگاه می‌کرد» حرف (م) چه نقشی دارد؟
 (۱) فاعل (۲) متمم (۳) مسند (۴) مضاف‌الیه
۳. کدام گزینه با سایر گزینه‌ها متفاوت است؟
 (۱) نوشته (۲) بخشنده (۳) دیده (۴) ناگفته
۴. اشاره به آیات و احادیث یا وقایع خاص در شعر را اصطلاحاً چه می‌گویند؟
 (۱) تلمیح (۲) تضمین (۳) کنایه (۴) استعاره
۵. کدام مکتب ادبی طرفدار بیان واقعیت تا سرحد امکان است و در رأس آن کدام نویسنده قرار دارد؟
 (۱) رآلیسم - بالزاک (۲) ناتورالیسم - امیل زولا
 (۳) سورآلیسم - برتون (۴) کلاسیسم - شکسپیر
۶. کدام جمله دارای اشکال نگارشی است؟
 (۱) قطعاً مدیرعامل جدید، مدیریت سازمان را تقویت خواهد کرد
 (۲) تنها کسانی سعادتمند می‌شوند که به خداوند ایمان داشته باشند
 (۳) آن شهید بزرگوار نه تنها دانشجوی نمونه بلکه همچنین ورزشکار هم بود
 (۴) در قدیم خانواده‌های محل، خود را غمخوار همدیگر می‌دانستند نه باری بر دوش هم
۷. در کدام گزین غلط ویرایشی وجود دارد؟
 (۱) استاد پس از بررسی مقالات رسیده، چند دقیقه در ارتباط با ارزش هنر سخنرانی کرد
 (۲) تاریخ ادبیات از آن جهت که معرف اوضاع و احوال اجتماعی هر ملت است، اهمیت بسیار دارد.
 (۳) با بزرگنمایی و اغراق در توصیف چهره و حالات و خصایص انسانی می‌توان یک نوشته طنزآمیز ساخت
 (۴) غنای آثار ادبی، گواه تجربه‌ها، ژرف اندیشی‌ها و تکاپوی فرزندگان ادب و فرهنگ ایران است.
۸. دو یا چند واژه که در جمله نقش یک واحد دستوری را دارند، چه می‌نامند؟
 (۱) واژه (۲) تکواژ (۳) جمله‌واره (۴) گروه
۹. کدام گزینه از کاربردهای کمانک نیست؟
 (۱) ذکر تاریخ (۲) ذکر معنی یک واژه

(۳) افزودن اطلاعات اضافی در داخل متن (۴) نقل قول

۱۰. «کاريز» با توجه به مفهوم عبارت زیر، نماد چگونه آدمی است؟

«کاريز خوش دارد خيال کند/ که رودها تنها برای اين هستند/ که به او آب برسانند»

(۱) مهربان (۲) بدبین (۳) خودخواه (۴) بی پناه

۱۱. مقصود از «لب دیوار دل» در شعر «شب دو صف از یاکریم/ بال به بال نسیم/ از لب دیوار دلت پرکشید» چیست؟

(۱) قلب (۲) دست (۳) صورت (۴) چشم

۱۲. کدام واژه‌ها به ترتیب برای کامل کردن بیت:

«این همه شهد و ... کز سخنم می‌ریزد اجر ... است کز آن شاخ نباتم دادند» مناسب است؟

(۱) خبر، روزی (۲) شکر، صبری (۳) نظر، بختی (۴) نفر، بندی

۱۳. اسفندیار و سهراب از چه نظر به هم شبیه نیستند؟

(۱) شاهزادگی (۲) جوانی (۳) بی‌تجربگی (۴) فریب خوردگی

۱۴. در کدام بیت، طنز رندانه حافظ به چشم می‌خورد؟

(۱) در شمار ارچه نیاورد کسی حافظ را شکر کان محنت بی حد و شمار آخر شد

(۲) باورم نیست ز بدعهدی ایام هنوز قصه غصه که در دولت یار آخر شد

(۳) آن همه ناز و تنعم که خزان می‌فرمود عاقبت در قدم باد بهار آخر شد

(۴) صبح امید که بد معتکف پرده غیب گو برون آی که شب تار آخر شد

۱۵. «دل شاه از اندیشه یابد گزند» یعنی :

(۱) پادشاه ناراحت می‌شود

(۲) کینه پادشاه را به دل می‌گیرند

(۳) فکر بد پادشاه، به امور کشور آسیب می‌رساند

(۴) پریشانی پادشاه، خانواده‌اش را غمگین می‌کند

۱۶. از محبوب‌ترین چهره های شعر حافظ است و در اصطلاح عرفانی واسطه فیض الهی است.

(۱) شاهد (۲) عاشق (۳) ساقی (۴) معشوق

۱۷. در کدام گزینه غلط املايي نیست؟

(۱) هدفشان همواره یکتاگردان و در سایه صبر و سولت پیروزشان فرمای.

(۲) پروردگارا از همیت های جاهلانه و عصبیت‌های ناهنجار به تو پناه می‌برم.

۳) از آن عطایا و مواهب که به خاطرشان در گنجینه فردوس برین ذخیره نمودی به آنان بنمای.

۴) خاطرش را از غم زن و فرزند بپرداز تا غم فراغ ایشان دلش را نشکند و عزمش را ضعیف نسازد.

۱۸. معنی همه کلمه های «رقیب، گبر، مینو، هله» در کدام گزینه آمده است؟

- ۱) حریف، کمان، شیشه، رها
۲) نزدیک، سپر، پاک، شادی
۳) همراه، سنان، آبگینه، آزاد شده
۴) نگهبان، خفتان، بهشت، آگاه باش

۱۹. کدام شاعر به سرودن ساقی نامه معروف نیست؟

- ۱) حافظ
۲) نظامی
۳) عطار نیشابوری
۴) رضی الدین آرتیمانی

۲۰. در کدام گزینه آرایه استعاره به کار رفته است؟

- ۱) نی محنت عشق دیده هرگز *** نی جور بتان کشیده هرگز
۲) مکن پیش دیوار غیبت بسی *** بود کز پشش گوش دارد کسی
۳) حذر کن ز نادان ده مرده گوی *** چو دانا یکی گوی و پرورده گوی
۴) چرا گوید آن چیز در خفیه مرد *** که گر فاش گردد شود روی زرد

۲۱. در کدام گزینه، آرایه حس آمیزی مشهود است؟

- ۱) در پس آینه طوطی صفتم ساخته اند *** آنچه استاد ازل گفت بگو می گویم
۲) صورت حجاب چهره معنی است کاشکی *** یکبارگی خراب شود هر چه صورت است
۳) در جواب هر سؤالی حاجت گفتار نیست *** چشم گویا عذر می خواهد لب خاموش را
۴) نیست یک دادرس اندر همه روی زمین *** ورنه از دست تو ای چرخ بسی دارم داد

۲۲. در بیت «هر کجا سیمبران جیب گشادند چو گل *** بی دلان پیرهن از شوق وفا ساخته اند» کدام آرایه ی

ادبی وجود ندارد؟

- ۱) کنایه
۲) تشبیه
۳) استعاره
۴) ایهام

۲۳. در کدام گزینه، وابسته به کار رفته است؟

- ۱) آرامش غمگین شهرها
۲) سرود مقدس موبدان
۳) سرنوشت ممتاز برگزیدگان
۴) گسترش اندیشه های مذهبی

۲۴. به جز گزینه ... در بقیه گزینه ها، همه کلمات مشتق هستند.

- ۱) پوشه، گیره، دوگانه، زشتی
۲) کاهش، فنی، کمانگیر، محرمانه

(۴) خریدار، نمودار، دیدار، روا (۴) زیبایی، صوفی گری، پیرایه، تراشیدن

۲۵. اجزای تشکیل دهنده کدام گروه از واژه‌ها (با توجه به نوع دستوری اجزای تشکیل دهنده) با دیگر گروه‌ها متفاوت است؟

(۱) شب بو، جانماز، گلاب (۲) گوش مال، هواپیما، آشپز
(۳) نامه رسان، نمک پاش، خط کش (۴) دماسنج، کف گیر، دست بوس

معارف اسلامی

۲۶. کدام گزینه از خصوصیات امور فطری است؟

(۱) در همه موارد وجود دارد
(۲) در گذر زمان دست خوش تغییر می‌شود
(۳) از والدین و محیط آموخته می‌شود
(۴) همواره بر سایر ویژگی‌های بشر غالب است

۲۷. مهم‌ترین ویژگی خاص پیامبر کدام است؟

(۱) عصمت از گناه (۲) اُسوه اخلاقی
(۳) دریافت و ابلاغ وحی (۴) عقل کامل

۲۸. اصلی‌ترین وجه تمایز انسان و حیوان کدام است؟

(۱) عقل (۲) اختیار (۳) تکلیف (۴) روح

۲۹. در قرآن کریم هدف آفرینش جن و انس چه چیزی عنوان شده است؟

(۱) رسیدن به کمال (۲) بهره‌مندی از مواهب طبیعی
(۳) شکوفایی استعدادها (۴) عبادت خداوند و کسب معرفت

۳۰. مطابق آموزه‌های دینی، مؤثرترین راه برای دعوت مردم به خیر و نیکی کدام است؟

(۱) صحبت کردن (۲) وضع مجازات و قوانین لازم
(۳) رفتار عملی (۴) جلب نظر و تحبیب قلوب

۳۱. مطابق آیات قرآن مجید، خداوند از فرزندان آدم چه پیمانی گرفته است؟

(۱) به یکدیگر نیکی کنید و از فساد و ظلم بپرهیزید
(۲) فقط خداوند را ستایش کنند از شیطان دوری گیرند

۳) به والدین خود احترام گذارده و نزدیکان و مستمندان را یاری نمایند
۴) در راه خدا جهاد نموده و نماز را به پا دارید.

۳۲. از آیه مبارکه (احسب الناس ان يتركوا ان يقولوا ءامنا و هم لا یفتنون) کدام مطلب مستفاد نمی‌گردد؟

- ۱) مردم همین که بگویند ایمان آوردیم به خود رها می‌شوند و امتحان نخواهند شد تا روز حسابرسی
- ۲) آزمایش سنت الهی است، خدا ما را امتحان می‌کند تا معلوم شود راست می‌گوییم یا دروغ.
- ۳) خداوند ما را امتحان می‌کند تا ما خود را بهتر بشناسیم و به قوت و ضعف خود آگاه شویم.
- ۴) مؤمنان آزمایش می‌شوند تا معلوم شود آنان که حقیقتاً ایمان آورده‌اند چه کسانی هستند.

۳۳. با تدبر در آیه شریفه (و اتقوا فتنه لا تصبین الذین ظلموا منکم خاصه) فتنه به معنای ... است و مفهوم آن است که ...

- ۱) امتحان و آزمایش - امتحان الهی عام و شامل همه انسان‌ها و در همه زمان‌ها است.
- ۲) امتحان و آزمایش - امتحان الهی فقط مخصوص ستمکاران جامعه می‌باشد.
- ۳) گرفتاری و مشکلات اجتماعی - بهره‌زید از فتنه ای که همچو آتش است چو گرفت خشک و تر را می‌سوزاند.
- ۴) گرفتاری و مشکلات اجتماعی - بهره‌زید از فتنه ای که همچو آتش است که فقط دامنگیر ستمکاران جامعه خواهد شد.

۳۴. نقص مطلق دانش بشری در کدام مسائل می‌باشد؟

- ۱) کمال و آفرینش انسان و جهان
 - ۲) شناخت انسان و حیات پس از مرگ
 - ۳) شناخت مکتب و مفهوم کمال و سعادت
 - ۴) سعادت و حیات ابدی و جاودانگی روح
۳۵. قرآن کار خارق‌العاده ای که پیامبران باذن الله انجام می‌دهند ... می‌نامد و آن‌ها ...
- ۱) آیت - در مجرای علل و عوامل شناخته شده جهان طبیعت صورت می‌گیرد.
 - ۲) معجزه - در مجرای علل و عوامل شناخته شده جهان طبیعت صورت می‌گیرد.
 - ۳) آیت - به گونه ای که به هیچ وجه قابل تأویل و توجیه نیست.
 - ۴) معجزه - به گونه ای که به هیچ وجه قابل تأویل و توجیه نیست.

۳۶. حدیث متواتر حدیثی است که ...

- ۱) تعدادی از شیعیان آن را نقل کنند به حدی که اطمینان آور شود.
- ۲) افراد زیادی آن را نقل کنند به حدی که سند قطعی باشد.

۳) تعدادی از افراد خوشنام نقل کنند به حدی که اطمینان آور شود.

۴) افراد موثقی آن را نقل کنند به حدی که از حیث دلالت قطعی باشد.

۳۷. از بررسی آیات و قرآن درمی یابیم که هر جا نامی از «امامت برده شده» ... هم به عنوان تفسیر به دنبال آن

ذکر گردیده است. مثلاً در داستان حضرت ابراهیم (ع) می فرماید ...

۱) ولایت - و کذالك نرى ابراهيم ملكوت السموات...

۲) ولایت - و وهبنا له اسحق ويعقوب نافله ...

۳) هدایت - و کذالك نرى ابراهيم ملكوت السموات...

۴) هدایت - و وهبنا له اسحق ويعقوب نافله ...

۳۸. با توجه به آیه ۸ سوره مبارکه شمس، انگیزه حق و باطل در کجاست و پیروزی نهایی حق بر باطل چگونه

حاصل می شود؟

۱) از درون انسانها - با پیروزی حضرت مهدی (عج)

۲) در درون انسانها - با پیروزی اسلام بر کفر نهایی

۳) در طول تاریخ - با پیروزی حضرت مهدی (عج)

۴) در طول تاریخ - با پیروزی اسلام بر کفر نهایی

۳۹. علماء اسلام قادرند با شناخت کلی اسلام و تطبیق آن با مقتضیات زمان و مکان حکم الهی را استخراج و

استنباط نمایند نام این عمل چیست و به چه معناست؟

۱) اجتهاد - بینش وسیع نسبت به مسائل اجتماعی

۲) اجتهاد - فهم دقیق و عالمانه قوانین اسلامی

۳) فقاہت - فهم دقیق و عالمانه قوانین اسلامی

۴) فقاہت - بینش وسیع نسبت به مسائل اجتماعی

۴۰. خشکیدن درختان و در آتش سوختن آن به انسان های ... تشبیه شده است.

۱) حرام خوار ۲) گنه کار ۳) بی نماز ۴) جدا از ولایت

۴۱. علت خروج موسی (ع) از شهری که در کودکی در آن می زیست چه بود و به کجا رفت؟

۱) به حمایت از مظلوم مردی از طرفداران فرعون را کشت تحت تعقیب قرار گرفت - مدین

۲) به حمایت از مظلوم مردی از طرفداران فرعون را کشت تحت تعقیب قرار گرفت - مصر

۳) چون موسی در برابر دستگیری های فرعون ایستادگی کرد تحت تعقیب قرار گرفت - مدین

۳) چون موسی در برابر دستگیری های فرعون ایستادگی کرد تحت تعقیب قرار گرفت - مصر

۴۲. با توجه به آیه شریفه (ان الصلوه تنهی عن الفحشاء و المنکر...) بالاترین فایده نماز که دربرگیرنده فواید می باشد کدام است؟

- (۱) بازداشتن از کارهای زشت پنهان (۲) یاد خدا
(۳) معرفت خدا (۴) بازداشتن از کارهای زشت آشکار

۴۳. آنگاه که مردم جامعه ای به سوی مال دوستی و جاه طلبی و شهوت پرستی میل می کنند و بی تفاوتی در جامعه حاکم می گردد، این امر حاکی از ... در آن جامعه است.

- (۱) بی ایمانی (۲) نبودن اخلاص (۳) نبودن معرفت (۴) بی تقوایی

۴۴. مهم ترین سفارش امام خمینی (ره) به جوانان که سایر چیزها به تبع آن حاصل می شود کدام است؟

- (۱) همیشه اتکا به خداوند و اعتماد به نفس داشته باشید.
(۲) برای به دست آوردن پیروزی به علم و تقوا مجهز شوید
(۳) با انس به کتاب و قلم، علم و آگاهی خود را افزایش دهید
(۴) در مسیر معنویت از وجود روحانیت متعهد استفاده کنید

۴۵. نسبت نیت به عمل چگونه است و مردم در قیامت بر اساس کدام مورد محشور می شوند؟

- (۱) نیت به منزله روح و عمل به منزله کالبد است - نیات
(۲) نیت به منزله روح و عمل به منزله کالبد است - اعمال
(۳) نیت دارای حسن فعلی و عمل دارای حسن فاعلی است - نیات
(۴) نیت دارای حسن فعلی و عمل دارای حسن فاعلی است - اعمال

۴۶. از این که امر کننده به معروف و بازدارنده از منکر در راه انجام این وظیفه الهی مرتکب گناهی مانند دروغ، توهین و تحقیر نشود به ... و توجه به تأثیر در امر و نهی به ترتیب، شامل ... امر به معروف و نهی از منکر می باشد.

- (۱) روش - مراتب (۲) شرایط - مراتب
(۳) مراتب - روش (۴) روش - شرایط

۴۷. آیه شریفه (اتا مرون الناس بالبر تنسون انفسکم) بیانگر کدام مطلب است؟

- (۱) اگر در امر و نهی مفسده ای نباشد، واجب است.
(۲) امر به معروف و نهی از منکر در هر صورت واجب است.
(۳) پیش از آن که دیگران را نصیحت خود را اصلاح نماید.
(۴) دیگران را به نیکی امر کنید و خود را فراموش کنید.

۴۸. انواع زیبایی معنوی چیست و عالی‌ترین نمونه آن کدام است؟

- (۱) معانی و مفاهیم موجود در نثر و نظم (فصاحت و بلاغت) و فضایل و کمالات روحی - آیات قرآن
- (۲) معانی و مفاهیم موجود در نثر و نظم (فصاحت و بلاغت) و فضایل و کمالات روحی - آیات قرآن.
- (۳) جنبه فکری و معرفتی و معانی و مفاهیم موجود در نثر و نظم (فصاحت و بلاغت) - فضایل و کمالات روحی

(۴) جنبه لفظی و هنری و معانی و مفاهیم موجود در نثر و نظم (فصاحت و بلاغت) - فضایل و کمالات روحی

۴۹. در میان مخلوقات خداوند موجوداتی که مادی نیستند و تغییر و تحول در آن راه ندارد در اصطلاح فلسفی ... نامیده می‌شوند و قرآن از زبان

- (۱) ملائک - فرشتگان می‌فرماید : و ما منا الا له مقام معلوم.
- (۲) مجردات - فرشتگان می‌فرماید : و ما منا الا له مقام معلوم.
- (۳) مجردات - پیامبران می‌فرماید : من جاهد فانما یجاهد لنفسه.
- (۴) ملائک - پیامبران می‌فرماید : من جاهد فانما یجاهد لنفسه.

۵۰. ریشه‌دارترین میلی که در نهاد هر انسان وجود دارد کدام است و در مرحله بالاتر آن چگونه است؟

- (۱) امیال غریزی - آدمی را به سوی ارضاء نیازهای غریزی و حیاتی خود می‌کشاند.
- (۲) خویش‌داری - آدمی را به سوی ارضاء نیازهای غریزی و حیاتی خود می‌کشاند.
- (۳) حب ذات - کلیه حرکات و فعالیت‌ها و جهت‌گیری‌های انسان را در مسیر کمال تشکیل می‌دهد.
- (۴) خویش‌داری - کلیه حرکات و فعالیت‌ها و جهت‌گیری‌های انسان را در مسیر کمال تشکیل می‌دهد.

اطلاعات عمومی

۵۱. یک اونس چند گرم است؟

- (۱) ۳۴/۵۹ (۲) ۲۱۵/۸۴ (۳) ۲۸۴/۳۶ (۴) ۲۸/۳۵

۵۲. سد سیوند در کدام استان در حال ساخت است؟

- (۱) اصفهان (۲) فارس (۳) کردستان (۴) ایلام

۵۳. کدام کشور از اعضای سازمان اوپک نیست؟

- (۱) گابن (۲) قطر (۳) فیلیپین (۴) ایران

۵۴. روز بانکداری اسلامی چه روزی است؟

- (۱) دهم مرداد ۱۳۶۲ (۲) دهم شهریور ۱۳۶۲ (۳) دهم مرداد ۱۳۶۱ (۴) دهم شهریور ۱۳۶۱

۵۵. بزرگ‌ترین خلیج جهان چه نام دارد؟
 (۱) خلیج فنلاند (۲) خلیج فارس (۳) خلیج هودسن (۴) خلیج مکزیکو
۵۶. ملاصدرا فیلسوف نامدار کدام دوره است؟
 (۱) افشاریه (۲) قاجاریه (۳) صفویه (۴) زندیه
۵۷. پست مدرنیسم :
 (۱) مرحله قبل از مدرنیسم است.
 (۲) مرحله بعد از مدرنیسم است.
 (۳) همان سنت گرایی است.
 (۴) ضد سنت گرایی است.
۵۸. سازمان فائو (F.A.O) :
 (۱) سازمان خواروبار و کشاورزی است.
 (۲) سازمان بهداشت جهانی است.
 (۳) سازمان نظامی آتلانتیک شمالی است.
 (۴) سازمان اقتصادی جنوب شرقی آسیا است.
۵۹. کتاب «مردی در تبعید ابدی» اثر کیست؟
 (۱) نادر ابراهیمی (۲) جلال آل احمد (۳) دکتر علی شریعتی (۴) استاد مطهری
۶۰. «هشت کتاب» شامل مجموعه آثار کدام شاعر معاصر است؟
 (۱) علی معلم (۲) مصطفی رحماندوست (۳) سهراب سپهری (۴) پروین اعتصامی
۶۱. کارگردانی مشهور که با فیلم‌های خود سیاست‌های جنگ‌طلبانه آمریکا را در جهان به نقد کشیده است؟
 (۱) مایکل مور (۲) استیون اسپیلبرگ (۳) عباس کیارستمی (۴) ابراهیم حاتمی کیا
۶۲. قرارداد تالبوت به همت کدام شخصیت لغو گردید؟
 (۱) میرزای شیرازی (۲) آیت الله بهبهانی (۳) آیت الله مدرس (۴) شیخ فضل الله نوری
۶۳. کانال سوئز کدام آب‌ها را به هم متصل کرده است؟
 (۱) دریای مدیترانه و اقیانوس اطلس
 (۲) دریای سیاه و دریای مدیترانه
 (۳) دریای سرخ و دریای مدیترانه
 (۴) دریای سرخ و اقیانوس هند
۶۴. استان ... در بین استان‌های خوزستان، ایلام، کرمانشاه، همدان، مرکزی و اصفهان محصور شده است.
 (۱) چهارمحال و بختیاری
 (۲) لرستان
 (۳) کهگیلویه و بویراحمد
 (۴) کردستان

۶۵. ایران از جمله کشورهایی است که نزدیک به ... درصد جمعیت آن را افراد کمتر از ۲۴ سال تشکیل می‌دهند.

- (۱) ۸۰ (۲) ۷۵ (۳) ۴۰ (۴) ۶۰

۶۶. پرسش اصلی در لیبرالیسم این است که :

- (۱) حکومت شوندگان چگونه از احکام اطاعت کنند
(۲) قدرت چگونه محدود می‌شود
(۳) تعداد حکومت کنندگان از چه قرار باشد
(۴) چه کسانی حکومت کنند

۶۷. نسبت تعداد دانش آموزان ۶ ساله شاغل به تحصیل در کلاس اول ابتدایی به تعداد جمعیت کودکان ۶ ساله

کشور، تعریف کدام اصطلاح است؟

- (۱) نرخ اشتغال به تحصیل ظاهری
(۲) نرخ اشتغال به تحصیل در سن دبستانی
(۳) نرخ پوشش تحصیلی افراد واجب التعلیم
(۴) نرخ اشتغال به تحصیل واقعی

۶۸. جنبش احقاق زنان، اصطلاحاً ... نامیده می‌شود.

- (۱) فمینیسم (۲) لیبرالیسم (۳) مدرنیسم (۴) نهیلیسم

۶۹. در اندیشه ماکیاوولی، سیاست وسیله ای است برای :

- (۱) حفظ قدرت (۲) تأمین رفاه اجتماعی (۳) رسیدن به عدالت (۴) توسعه سیاسی

۷۰. کدام گزینه صحیح است؟

- (۱) ایران بزرگ‌ترین صادرکننده نفت و گاز در جهان است.
(۲) ایران بزرگ‌ترین تولید کننده نفت و گاز در جهان است.
(۳) ایران دومین رتبه را از نظر نفت خام در جهان دارد.
(۴) ایران دومین رتبه را از نظر ذخائر گاز در جهان دارد.

هوش و استعداد

۷۱. تصویر یک عدد دورقمی در آینه، مجذور یک عدد یک رقمی است. آن عدد کدام است؟

- (۱) ۱۵ (۲) ۱۸ (۳) ۱۱ (۴) ۱۷

۷۲. در مجموعه اعداد زیر چه عددی را باید به جای علامت سؤال گذاشت؟

۵۳ و ۵۱ و ۴۷ و ۴۱ و ؟ و ۲۳ و ۱۱

(۱) ۲۹ (۲) ۳۱ (۳) ۳۳ (۴) ۳۵

۷۳. ضد باقی چیست؟

(۱) مقام (۲) معدوم (۳) فانی (۴) کل

۷۴. در کلاس تعداد صندلی‌های هر ردیف برابر است اگر در هر طرف صندلی میانی این کلاس سه صندلی وجود داشته باشد چند صندلی در کلاس وجود دارد؟

(۱) ۳۶ (۲) ۴۲ (۳) ۴۹ (۴) هیچکدام

۷۵. فاصله بین دو شهر ۳۰۰ کیلومتر است، سرعت اتومبیلی که این فاصله را در ۱۵۰ دقیقه طی می‌کند برابر با :

(۱) ۱۰۰ کیلومتر (۲) ۱۵۰ کیلومتر (۳) ۲۰۰ کیلومتر (۴) هیچکدام

۷۶. تعداد کارمندان مؤسسه ای هر چهار سال دو برابر می‌شود، در صورتی که بدانیم این مؤسسه در فروردین

۱۳۸۳ تعداد ۱۲۰ کارمند داشته، تعداد کارمندان آن در فروردین ۱۳۷۱ چه بوده است؟

(۱) ۱۵ (۲) ۲۵ (۳) ۳۰ (۴) ۴۰

۷۷. نسبت ۵ به $2\frac{3}{4}$ مانند ۲۰ به ... است.

(۱) $8\frac{3}{4}$ (۲) ۱۱ (۳) $13\frac{3}{4}$ (۴) ۱۵

۷۸. گروهی علائم و حروف داخل کادر زیر به نحوی باهم ارتباط دارند. از میان حروف داده شده زیر، کدام گروه را

باید به جای علامت سؤال گذاشت؟

+X-	ع ی ق
X-+	ق ع ی
-+X	؟

(۱) ع ی ق (۲) ی ق ع

(۳) ع ق ی (۴) ق ی ع

۷۹. در یک نقشه ساختمانی، هر متر با $\frac{1}{4}$ سانتی متر نشان داده شده است. طول ۳۰ متری یک سالن در این

نقشه به چه اندازه نشان داده می‌شود؟

(۱) $1/25$ سانتی متر (۲) $7/5$ سانتی متر

(۳) $1/75$ سانتی متر (۴) $2/5$ سانتی متر

۸۰. در یک اتاق ۲ زن و شوهران آنها و ۴ فرزند هر یک از آن ۲ زن حضور دارند. اگر نصف تعداد فرزندان این زنان ازدواج کرده و با همسر خود در اتاق باشند جمعاً چند نفر در اتاق هستند؟

- (۱) ۱۴ نفر (۲) ۱۶ نفر (۳) ۱۲ نفر (۴) ۱۵ نفر

۸۱. حسین، فرهاد، جمشید و هوشنگ با فاصله یک سال از هم متولد شده‌اند. جمشید بزرگ‌تر از حسین و کوچک‌تر از فرهاد است. هوشنگ ۲۵ ساله و از سه نفر دیگر کوچک‌تر است. جمشید چند سال دارد.

- (۱) ۲۴ سال (۲) ۲۶ سال (۳) ۲۷ سال (۴) ۲۸ سال

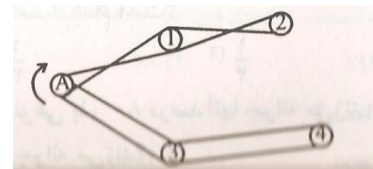
۸۲. اگر شخصی در یک سال کیسه فقط ماه آخر هر فصل را کار کند، در آن سال چند روز کار کرده است؟

- (۱) ۱۲۰ روز (۲) ۱۲۲ روز (۳) ۱۱۲ روز (۴) ۱۲۴ روز

۸۳. تیر به اسیر مانند نور است به :

- (۱) دور (۲) عبور (۳) مجبور (۴) تاریکی

۸۴. وقتی که چرخ A در جهت فلش بچرخد، چرخ‌های ۱، ۲، ۳، ۴ را می‌چرخاند. کدامیک از این چرخ‌ها در جهت مخالف A خواهد چرخید؟




- (۱) ۱ (۲) ۲ (۳) ۳ (۴) ۴


۸۵. نسبت ح به و مانند ع است به :

- (۱) و (۲) ع (۳) ح (۴) و

۸۶. نسبت به مانند است به :

- (۱)  (۲)  (۳)  (۴) 

۸۷. نسبت به مانند است به :

- (۱)  (۲)  (۳)  (۴) 

۸۸. اگر فروشنده ای کالایی را که ۶۰ ریال خریده است به ۷۲ ریال بفروشد معادل ۴۰ ریال از آن کالا را چند ریال باید بفروشد تا به همان نسبت سود ببرد؟

- (۱) ۵۰ (۲) ۴۶ (۳) ۵۴ (۴) ۴۸

۸۹. سیببی را که ۳۰۰ گرم وزن دارد به نحوی دو قطعه کرده‌ایم که وزن یک قطعه $\frac{2}{3}$ وزن قطعه دیگر است. قطعه بزرگ‌تر چقدر وزن دارد.

- (۱) ۱۸۰ گرم (۲) ۲۰۰ گرم (۳) ۲۲۰ گرم (۴) ۲۴۰ گرم

۹۰. شباهت هیچ و صفر در ... است.

- (۱) عدم بودن آنهاست (۲) مبهم بودن آنهاست
(۳) نبودن چیزی (۴) ارزش مطلق آنها

ریاضیات

۹۱. از بین ۸ نفر قبول شدگان المپیاد، ۳ نفر به تصادف انتخاب می‌کنیم. تعداد عضوهای پیشامد A که در آن فرد مورد نظر در بین آنها باشد، کدام است؟

- (۱) ۸ (۲) ۲۴ (۳) ۲۱ (۴) ۱۴

۹۲. احتمال وقوع پیشامد A برابر $\frac{1}{4}$ و احتمال وقوع پیشامد AUB برابر $\frac{1}{3}$ و $A \subset B$ است. احتمال وقوع پیشامد B کدام است؟

- (۱) $\frac{1}{3}$ (۲) $\frac{1}{4}$ (۳) $\frac{1}{12}$ (۴) $\frac{7}{12}$

۹۳. از نوعی بذر ۸۰ درصد آنها جوانه می‌زند. اگر سه بذر از این نوع کاشته شود، با کدام احتمال لااقل دو بذر جوانه می‌زند؟

- (۱) ۰/۵۱۲ (۲) ۰/۷۸۳ (۳) ۰/۸۶۴ (۴) ۰/۸۹۶

۹۴. تابع $f(x) = x^2 - 3|x|$ چند نقطه بحرانی دارد.

- (۱) ۱ (۲) ۲ (۳) ۳ (۴) ۴

۹۵. حاصل $\int \frac{(2x\sqrt{x} + \sqrt{x})^4}{x^2} dx$ برابر است با :

- (۱) $\frac{(2x+1)^5}{5} + c$ (۲) $\frac{(2x+1)^5}{10} + c$ (۳) $\frac{2(2x+1)^5}{5} + c$ (۴) $4 \frac{(2x+1)^5}{5} + c$

۹۶. جواب مشترک نامعادلات $\frac{2}{3}x \geq 1 - \frac{2}{3}$ و $x - 1 \leq \frac{1}{2} - 2x$ کدام است؟

- (۱) $|x| < \frac{1}{2}$ (۲) $x < \frac{1}{2}$ (۳) $x > \frac{1}{2}$ (۴) $x = \frac{1}{2}$

۹۷. به ازای کدام مقدار m معادله $mx^2 - 6x + m - 2 = 0$ ریشه مضاعف دارد؟

- (۱) $2 \pm \sqrt{10}$ (۲) $2 \pm \sqrt{8}$ (۳) $1 \pm \sqrt{10}$ (۴) $1 \pm \sqrt{8}$

۹۸. اگر A مجموعه با پایان B مجموعه بی پایان باشد. مجموعه $A - B$ چگونه است؟

- (۱) با پایان (۲) بی پایان (۳) تهی (۴) غیرقابل تعریف

۹۹. اگر $A = \begin{bmatrix} 2 & 5 \\ -1 & 3 \end{bmatrix}$ و I ماتریس واحد از مرتبه دو باشند. ماتریس $(A - I) \cdot (A + I)$ کدام است؟

- (۱) $\begin{bmatrix} -2 & 25 \\ 5 & -3 \end{bmatrix}$ (۲) $\begin{bmatrix} -2 & 25 \\ -5 & 3 \end{bmatrix}$ (۳) $\begin{bmatrix} -2 & 25 \\ -5 & -3 \end{bmatrix}$ (۴) $\begin{bmatrix} 2 & 25 \\ 5 & -3 \end{bmatrix}$

۱۰۰. جواب کلی معادله $2\cos x + \sqrt{3} = 0$ به کدام صورت است؟

- (۱) $2k\pi \pm \frac{5\pi}{6}$ (۲) $2k\pi \pm \frac{2\pi}{3}$ (۳) $2k\pi \pm \frac{\pi}{6}$ (۴) $2k\pi \pm \frac{\pi}{3}$

۱۰۱. اگر $\log x + \log y = 1$ و $4^{x-y} = 64$ کدام است؟

- (۱) $7/5$ (۲) 6 (۳) 5 (۴) $4/5$

۱۰۲. اگر $a = i - 2j$ و $b = 3i + j$ ، طول بردار مکان $\overrightarrow{OA} = 2a - b$ کدام است؟

- (۱) $\sqrt{15}$ (۲) $\sqrt{17}$ (۳) $\sqrt{20}$ (۴) $\sqrt{26}$

۱۰۳. از رابطه $C(n, n-2) = 120$ عدد n کدام است؟

- (۱) 18 (۲) 16 (۳) 15 (۴) 12

۱۰۴. در یک تصاعد حسابی جمله اول -3 و مجموع 13 جمله اول آن صفر است. قدر نسبت تصاعد آن کدام است؟

- (۱) $\frac{3}{4}$ (۲) $\frac{2}{3}$ (۳) $\frac{1}{2}$ (۴) 1

۱۰۵. بین دو عدد 16 و 81 سه واسطه هندسی درج شده است. مجموع این سه عدد کدام است؟

- (۱) 112 (۲) 114 (۳) 116 (۴) 118

۱۰۶. عبارت $\tan(\pi + \alpha) + \frac{\sin 2\alpha}{1 + \cos 2\alpha}$ برابر کدام است؟

- (۱) $2 \tan \alpha$ (۲) $2 \cos \alpha$ (۳) $\cos \alpha$ (۴) $\tan \alpha$

۱۰۷. ساده شده عبارت $\left(4x + \frac{1}{x-1}\right) \times \left(1 - \frac{1}{2x-1}\right)$ کدام است؟

- (۱) $2x-1$ (۲) $2x+1$ (۳) $4x-2$ (۴) $2x-2$

۱۰۸. در تجزیه عبارت $(a^2 - c^2 + b^2 - 2ab)$ کدام عامل وجود دارد؟

- (۱) $a + b + c$ (۲) $a + c - b$ (۳) $a - c + b$ (۴) $c - a - b$

۱۰۹. خط به معادله $y = 2x - 6$ محورهای مختصات را در A و B قطع می‌کند، فاصله وسط AB از مبدأ مختصات کدام است؟

- (۱) $\frac{2\sqrt{5}}{3}$ (۲) $\frac{5\sqrt{2}}{3}$ (۳) $\frac{3\sqrt{5}}{2}$ (۴) $\frac{3\sqrt{2}}{2}$

۱۱۰. حاصل عبارت $(\sqrt{2} - 2\sqrt{3})(\sqrt{8} + \sqrt{3}) + \sqrt{54}$ کدام است؟

- (۱) -۲ (۲) -۱ (۳) $\sqrt{3}$ (۴) $\sqrt{6}$

رایانه ICDL

۱۱۱. کدام یک از شبکه های کامپیوتری زیر محدوده وسیع تری را پوشش می‌دهد؟

- (۱) LAN (۲) MAN (۳) WAN (۴) Workgroup

۱۱۲. در شبکه های بی سیم LAN علاوه بر کارت شبکه بی سیم به ... نیز برای ارتباط کامپیوترها به یکدیگر نیاز است.

- (۱) Modem (۲) Access Point (۳) LAN Card (۴) VGA Card

۱۱۳. به عمل راه اندازی کامپیوتر از روی فلاپی دیسک یا CD چه می‌گویند؟

- (۱) Boot (۲) Defragmentation (۳) Format (۴) Reset

۱۱۴. کدام یک از گزینه های زیر نشانی درست یک پست الکترونیکی را نشان می‌دهد؟

- (۱) WWW.user@company.come (۲) user. company.com (۳) http://user@company.com (۴) user@company.come

۱۱۵. برای گرفتن دقیق ترین نتیجه هنگام جستجوی اینترنتی یک واژه خاص بهتر است ...

- (۱) عبارت جستجو را داخل « » قرار دهیم (۲) عبارت جستجو را داخل () قرار دهیم (۳) عبارت جستجو را داخل " " قرار دهیم (۴) عبارت جستجو را < > داخل قرار دهیم

۱۱۶. اشتباهات املائی در ورد (word) چگونه نمایش داده می‌شود؟

- (۱) یک لغت سبز موج دار زیر لغت اشتباه کشیده می‌شود
(۲) لغت اشتباه یا یک فونت دیگر به نمایش در می‌آید
(۳) یک خط قرمز موج دار زیر لغت اشتباه کشیده می‌شود
(۴) رنگ لغت اشتباه قرمز می‌شود

۱۱۷. Page break در ورد (word) موجب انجام چه کاری می‌شود؟

- (۱) فرمانی است به پرینتر، تا از صفحه جدید پرینت گرفته شود.
- (۲) فرمانی است که موجب می‌شود یک صفحه به انتها رود و صفحه بعدی ظاهر شود.
- (۳) فرمانی است که موجب می‌شود تا یک صفحه به ۲ قسمت (عمودی) تقسیم شود.
- (۴) فرمانی است که موجب می‌شود تا یک صفحه به ۲ قسمت (افقی) تقسیم شود.

۱۱۸. شکل زیر نوار استاندارد (standard toolbar) اکسل را نشان می‌دهد، چه عملی به وسیله دکمه ای که با حرف J نشان داده شده است، انجام می‌دهد؟



- (۱) انحراف معیار خانه‌هایی (cells) که انتخاب شده است را محاسبه می‌کند
- (۲) مقدار میانگین اعداد انتخاب شده است را محاسبه می‌کند
- (۳) مقادیری را به خانه‌هایی که انتخاب شده است، اضافه می‌کند.
- (۴) لیستی از توابع را نشان می‌دهد و مجموعه ای از مقادیر و ارزش‌ها را در اختیار شمار قرار می‌دهد.


۱۱۹. سند شما حاوی ۱۰ صفحه است. اگر شما بخواهید از صفحات ۱، ۲، ۴، ۵، ۷، ۸ پرینت بگیرید. کدامیک از فرمان‌های زیر صحیح نیست؟

- (۱) ۱، ۲، ۴، ۵، ۷، ۱۰
- (۲) ۱، ۲، ۴، ۵، ۷، ۱۰
- (۳) ۱ to ۲، ۴، ۵، ۷، ۸، ۹، ۱۰
- (۴) ۱، ۲، ۴، ۵، ۷، ۸، ۹، ۱۰

۱۲۰. DOS، اختصار کدامیک از گزاره زیر است؟

- (۱) Disk operation system
- (۲) Digital operating system
- (۳) Disk operation software
- (۴) Disk operating system

۱۲۱. شکل زیر نوار استاندارد (standard toolbar) اکسل را نشان می‌دهد، چه عملی به وسیله دکمه ای که با حرف Y نشان داده شده است، انجام می‌شود؟



- (۱) انحراف میانگین اعدادی را که خانه های آنها انتخاب شده است را محاسبه می‌کند
- (۲) مقدار میانگین اعداد انتخاب شده است را محاسبه می‌کند

(۳) ارزش‌هایی را به خانه‌هایی که انتخاب شده است، اضافه می‌کند.

(۴) خانه‌های انتخاب شده را با یکدیگر جمع می‌کند.

۱۲۲. چنانچه شما تمایل داشته باشید که یک تصویر bitmap را به اسلاید PowerPoint اضافه کنید کدامیک

از مراحل زیر را طی می‌کنید؟

(۱) Insert → Picture → ClipArt

(۲) Insert → Picture → From file

(۳) Slide show → Add picture → From File

(۴) Insert → Object → eps

۱۲۳. کلید میان‌بر (ctrl + I) در ورد ۲۰۰۰ (word 2000) موجب انجام چه کاری می‌شود؟

(۱) متن انتخاب شده را با همان فونت قبلی بزرگ‌تر می‌کند

(۲) موجب اضافه شدن یک خط انفصال در متن مورد نظر می‌شود.

(۳) متن انتخاب شده را به فرمت ایتالیک (italic) تبدیل می‌کند

(۴) کلمات متن انتخاب شده را درشت‌تر و پررنگ‌تر (bold) می‌کند.

۱۲۴. سودمندی استفاده از فرمان FDISK چیست؟

(۱) به کاربر اجازه می‌دهد که درایوهای دیسک سخت خود را فرمت کند.

(۲) به کاربر اجازه می‌دهد که درایوهای دیسک سخت خود را مجدداً افراز (partition) کند.

(۳) به کاربر اجازه می‌دهد که به سرعت فلاپی دیسک خود را فرمت کند.

(۴) به کاربر اجازه می‌دهد که حجم مشخصی از فلاپی دیسک خود را فرمت کند.

۱۲۵. کدامیک از گزاره‌های زیر جزء زبان‌های برنامه‌نویسی کامپیوتر محسوب می‌شود؟

(۱) Linux (۲) Windows 2000 (۳) Word 2000 (۴) C++

۱۲۶. در حافظه ROM نگهداری می‌شود.

(۱) برنامه‌های لازم برای راه‌اندازی کامپیوتر (۲) اطلاعات و فایل‌های کاربر

(۳) اطلاعات به صورت موقت (۴) ۱ و ۳

۱۲۷. ظرفیت کدامیک از حافظه‌های زیر بیشتر است؟

(۱) ZIP (۲) JAZ (۳) 3.5" Floppy (۴) ROM

۱۲۸. هر کاراکتر معادل کدامیک از واحدهای زیر است؟

(۱) ۸ بیت (۲) ۱۰۲۴ بیت (۳) ۱۲ بیت (۴) ۴ بیت

۱۲۹. Shareware چیست؟

- (۱) سخت افزارهایی که بین چند کامپیوتر به اشتراک گذاشته می‌شوند.
- (۲) نرم افزارهایی که رایگان هستند.
- (۳) نرم افزارهایی که بین چندین کاربر به اشتراک گذاشته می‌شوند.
- (۴) نرم افزارهایی هستند، عمدتاً به صورت رایگان و چند روزه که در صورت نیاز مجوز استفاده از آنها باید خریداری شود.

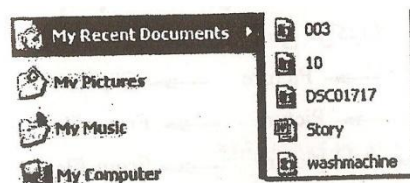
۱۳۰. کدامیک از نرم افزارهای زیر کاربردی است؟

- (۱) Ms – Dos (۲) Windows XP (۳) Linux (۴) Photoshop

۱۳۱. کدامیک از انواع port نیست؟

- (۱) USB (۲) DIN (۳) D – Shell (۴) PCI

۱۳۲. مطابق تصویر روبرو گزینه My recent documents چه کاربردی دارد؟



- (۱) ۵ فایلی را که اخیراً استفاده کرده‌اید، لیست می‌کند.
 - (۲) ۵ برنامه ای را که اخیراً استفاده کرده‌اید، لیست می‌کند.
 - (۳) ۱۵ فایلی را که اخیراً استفاده کرده‌اید، لیست می‌کند.
 - (۱) ۱۵ برنامه ای را که اخیراً استفاده کرده‌اید، لیست می‌کند.
۱۳۳. در صورتی که نام فایل مورد جستجو را به خاطر نداشته باشید، برای نام از کدام الگو استفاده می‌کنید؟
- (۱) *
 - (۲) ؟
 - (۳) !
 - (۴) جای نام را خالی می‌گذارید.

۱۳۴. فرمان undo چه کاربردی دارد؟

- (۱) لغو فرامین صادر شده
- (۲) صدور مجدد فرامین لغو شده
- (۳) لغو اجرای یک نرم افزار
- (۴) گزینه ۲ و ۳

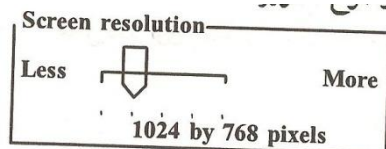
۱۳۵. گزینه standby در منوی turn off computer چه عملی را انجام می‌دهد؟

- (۱) رفتن به حالت آماده به کار
- (۲) خاموش کردن کامپیوتر
- (۳) راه اندازی مجدد سیستم عامل
- (۴) راه اندازی مجدد سیستم عامل در dos

۱۳۶. فرمان cut چه کاربردی دارد و کلید میانبر آن چیست؟

- (۱) برای کپی کردن فایل‌ها و فولدرها - ctrl+c
- (۲) برای جابجا کردن فایل‌ها و فولدرها - ctrl+c
- (۳) برای جابجا کردن فایل‌ها و فولدرها - ctrl+x
- (۴) برای کپی کردن فایل‌ها و فولدرها - ctrl+x

۱۳۷. در تصویر مقابل با کشیدن slide bar به سمت more، وضوح تصویر ... و اندازه آن خواهد شد.



- (۱) بالاتر - بزرگ‌تر
- (۲) پایین‌تر - کوچک‌تر
- (۳) پایین‌تر - بزرگ‌تر
- (۴) بالاتر - کوچک‌تر

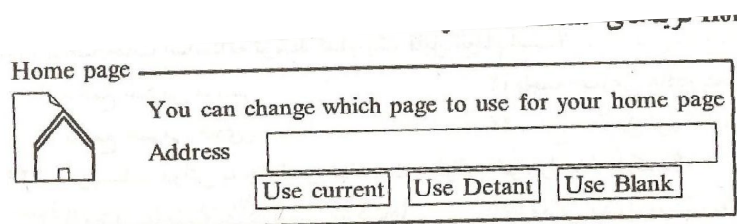
۱۳۸. کلید History در نوار ابزار Internet Explorer چه مورد استفاده ای دارد؟

- (۱) مشاهده صفحاتی که قبلاً دیده‌ایم، به صورت offline
- (۲) بارگذاری صفحات مجدد
- (۳) مشاهده صفحات جدید در حالت offline
- (۴) جستجو در صفحات

۱۳۹. ساختار کدام یک از آدرس‌های زیر درست است؟

- (۱) www.yahoo.com
- (۲) www.neda.net.ir
- (۳) www.com.google
- (۴) www.gmail

۱۴۰. در تنظیم Home page گزینه های Use current و Use black به ترتیب چه کاربردی دارد؟



- (۱) Home page فعلی باقی می‌ماند - IE فاقد Home page خواهد شد.

- (۲) صفحه وب فعلی Home page می شود - وب سایت www.msn.com، Home page می شود.
- (۳) صفحه وب فعلی Home page می شود - IE فاقد Home page خواهد شد.
- (۴) Home page فعلی باقی می ماند - آدرس صفحاتی که قبلاً در آنها بوده ایم، پاک می شود.
۱۴۱. در صورتی که بخواهید درباره هتلی در ایران در وب جستجو کنید، کدام الگو را انتخاب می کنید؟
 (۱) Hotel + Iran (۲) "Hotel Iran" (۳) "Hotel + Iran" (۴) Hotel - Iran
۱۴۲. موتور جستجو چیست؟
 (۱) نرم افزار است برای جستجو در وب
 (۲) یک بانک اطلاعاتی است.
 (۳) نرم افزار است روی سیستم عامل کاربر
 (۴) سخت افزار است برای جستجو در وب
۱۴۳. در نرم افزار Outlook Express گزینه Replay All چه کاربردی دارد؟
 (۱) پاسخ به فرستنده نامه دریافتی
 (۲) ارسال نامه عیناً به گیرندگان دیگر
 (۳) پاسخ به فرستنده نامه و گیرندگان دیگر نامه
 (۴) پاسخ به گیرندگان دیگر نامه
۱۴۴. کلید Favorite در نوار ابزار Internet Explorer چه مورد استفاده ای دارد؟
 (۱) نمایش لیستی از لینک های از قبل تعریف شده در IE
 (۲) افزودن صفحات و وب سایت های دلخواه به لیست Favorite
 (۳) نمایش صفحاتی که دیده ایم
 (۴) گزینه ۱ و ۲
۱۴۵. فولدرهای Outbox و Drafts در نرم افزار Outlook Express چه کاربردی دارند؟
 (۱) محل نگهداری نامه های ارسال شده و محل نگهداری نامه های پیش نویس شده.
 (۲) محل نگهداری نامه های آماده به ارسال و محل نگهداری نامه های بایگانی شده.
 (۳) محل نگهداری نامه های آماده به ارسال و محل نگهداری نامه های پیش نویس شده.
 (۴) محل نگهداری نامه های ارسال شده و محل نگهداری نامه های پیش نویس شده.

حقوق

۱۴۶. براساس قانون تجارت، فعالیت بنگاه های معاملات ملکی چه نوع فعالیتی است؟
 (۱) غیرتجارتی

(۲) تجارتي

(۳) اگر با خريد و فروش ملك باشد تجارتي است

(۴) قانون در اين مورد خاص مسكوت است.

۱۴۷. در شركت‌های سهامی، نقل و انتقال سهام چگونه انجام می‌شود؟

(۱) از طريق دادن و گرفتن سهام

(۲) بايد در دفاتر انتقال سهام ثبت شود

(۳) از طريق ثبت شركت‌ها انجام می‌شود

(۴) در دفاتر اسناد رسمي صورت می‌گيرد

۱۴۸. اصلاحات اساسنامه توسط کدام يك قابل انجام است؟

(۱) مجمع عمومي مؤسس

(۲) مجمع عمومي عادي بنحو فوق‌العاده

(۳) مجمع عمومي عادي

(۴) مجمع عمومي فوق‌العاده

۱۴۹. مؤسسات دولتي به چه نحو شخصيت حقوقي خود را پيدا می‌کند؟

(۱) با معرفي موسسه به اداره ثبت شركت‌ها

(۲) با معرفي مسئول به بالاترين دستگاه اجرايي مربوطه

(۳) پس از تشكيل موسسه و ثبت در اداره ثبت شركت‌ها

(۴) پس از تشكيل موسسه

۱۵۰. در قانون تجارت، تاجر به چه كسي اطلاق می‌شود؟

(۱) هر كسي كه هرگونه معامله تجارتي انجام می‌دهد.

(۲) كسي كه حداقل نيمي از درآمد خود را از محل معاملات تجارتي تأمین می‌نماید.

(۳) كسي كه داراي موسسه تجارتي ثبت شده است.

(۴) كسي كه شغل معمولي وی معاملات تجارتي است.

۱۵۱. برات رجوعي توسط ... و به عهده ... صادر می‌گردد.

(۱) قبول كننده برات - برات دهنده

(۲) برات دهنده - يكي از ظهرنويس ها

(۳) قبول كننده برات - يكي از ظهرنويس ها

(۴) دارنده برات اصلي - برات دهنده

۱۵۲. مطابق قانون تجارت، صدور سفته و برات در وجه حامل چگونه است؟

(۱) مجاز است

(۲) در برات غیرمجاز و در سفته بلامانع است

(۳) غیرمجاز است

(۴) در سفته غیر مجاز و در برات بلامانع است

۱۵۳. اگر بانکی ورشکسته اعلام شود، امور مربوط به تسویه بانک توسط کدام یک صورت می‌پذیرد؟

(۱) وزارت امور اقتصادی و دارایی

(۲) مجمع عمومی بانکها

(۳) اداره تسویه ورشکستگی با نظارت بانک مرکزی

(۴) بانک مرکزی جمهوری اسلامی ایران

۱۵۴. صادرکننده چک در چه صورتی می‌تواند درخواست عدم پرداخت وجه چک را صادر نماید؟

(۱) اختلاف حساب با ذینفع چک

(۲) مفقودی یا سرقت چک

(۳) اشتباه در صدور چک و یا مفقودی و سرقت

(۴) فسخ قرارداد و معامله مربوطه

۱۵۵. حد نصاب قانونی برای رسمیت آرای جلسات مجامع عمومی فوق‌العاده کدام است؟

(۱) یک سوم آرای حاضرین

(۲) دو سوم آرای حاضرین

(۳) نصف به علاوه یک آرای حاضرین

(۴) سه چهارم آرای حاضرین

۱۵۶. کسی که اوراق قرضه شرکتی را خریداری می‌کند، دارای چه حقوقی است؟

(۱) تمام حقوق صاحبان سهام را دارد.

(۲) بر اساس میزان تصمیمات مجمع عمومی فوق‌العاده دارای حقوقی است.

(۳) به میزان اوراق قرضه خریداری کرده دارای سهام شرکت خواهد بود.

(۴) فقط به مبلغ خریداری شده بستانکار شرکت است.

۱۵۷. از لحاظ حقوقی اقرار در دادگاه با چه کیفیتی انجام می‌شود؟

(۱) در قالب لایحه تقدیمی به دادگاه

(۲) فقط در حضور قاضی

(۳) در دادگاه یا به صورت لوایح تقدیمی به دادگاه

(۴) در دادخواست، حین مذاکره در دادگاه یا طی لایحه تقدیمی

۱۵۸. اگر دادگاه تشخیص دهد دعوی ثالث به منظور تبانی یا تأخیر رسیدگی است ...

(۱) دعوی ثالث را بلا موضوع تلقی نموده و ختم رسیدگی به آن را اعلام می‌کند.

(۴) دعوی ثالث را به محکمه دیگری ارجاع می‌کند

(۳) دعوی ثالث را از دعوی اصلی تفکیک نموده و هر یک را جداگانه رسیدگی می‌نماید.

(۴) دستور تعقیب کیفری طرف دعوی ثالث را صادر می‌نماید.

۱۵۹. اگر رسیدگی به دعوی منوط به اثبات ادعایی باشد که در صلاحیت دادگاه دیگری است. وظیفه دادگاه

رسیدگی کننده کدام است؟

(۱) از مراجع عالی صلاحیت دار کسب تکلیف می‌کند.

(۲) رسیدگی یا تعیین بودجه نتیجه ادعای مذکور در دادگاه صالحه متوقف می‌شود.

(۳) دادگاه از خود قرار عدم صلاحیت صادر نماید.

(۴) دادگاه دعوی را بطور کلی به دادگاه صلاحیت دار ارجاع دهد.

۱۶۰. وکیل دادرسی در چه صورتی می‌تواند درخواست صدور برگ اجرایی نماید؟

(۱) در صورتی که مراتب در وکالت‌نامه وی درج شده باشد.

(۲) در صورت اعتبار وکالت نامه مطابق قانون می‌تواند درخواست نماید.

(۳) وکیل دادرسی حق درخواست صدور برگ اجرایی را دارد.

(۴) وکیل دادرسی حق درخواست صدور برگ اجرایی را ندارد.

۱۶۱. در چه صورتی می‌توان مال معین یا طلبی را که موعد تسلیم آن نرسیده است درخواست تأمین نمود؟

(۱) در صورتی که مطابق اسناد معتبر، قیمت مال مورد نظر در حال افزایش باشد.

(۲) در صورتی که طلب، مستند به اسناد رسمی باشد.

(۳) تا قبل از موعد تسلیم نمی‌توان درخواست تأمین نمود.

(۴) در صورتی که اسناد رسمی مربوطه موجود بوده و مال در معرض تضییع یا تفریط باشد.

۱۶۲. کدام گزینه صحیح است؟

(۱) اقرار وکیل علیه موکل خود نسبت به کلیه امور مربوط به دعوی موکل پذیرفته می‌شود.

(۲) اقرار وکیل علیه موکل خود نسبت به کلیه امور مربوط به دعوی موکل غیرقابل قبول است.

(۳) اقرار وکیل علیه موکل خود نسبت به اموری که قاطع دعوی است پذیرفته می‌شود.

(۴) اقرار وکیل علیه موکل خود نسبت به اموری که قاطع دعوی است پذیرفته نمی‌شود.

۱۶۳. اگر خواندگان یک دعوی در حوزه های قضایی متفاوت اقامت داشته باشند ...؟

(۱) خواهان می‌تواند دادگاه محلی اقامتگاه یک نفر از خواندگان را انتخاب و دعوی را یکجا طرح کند.

(۲) خواهان باید دعوی را در محل اقامتگاه قانونی مطرح کند.

(۳) خواهان موظف است دعاوی مربوط به هر یک از خواندگان را جداگانه در محل اقامت آنان طرح نماید.

(۴) خواهان موظف است دعوی را در یکی از شعب تعیین شده در مرکز (تهران) طرح نماید.

۱۶۴. حل اختلاف در صلاحیت بین دادگاه عمومی و انقلاب در استان‌ها با کدام یک از مراجع زیر می‌باشد؟

(۱) دیوان عالی کشور (۲) دادگاه تجدیدنظر استان

(۳) دادگاه انقلاب کل کشور (۴) دادگاه کل استان

۱۶۵. کدام مرجع قضایی صالح به رسیدگی دعوی اعسار از پرداخت محکوم می‌باشد؟

(۱) دادگاه صادر کننده حکم قطعی (۲) دادگاه محل اقامت خواهان

(۳) دادگاه تجدیدنظر استان (۴) دادگاه صادر کننده حکم بدوی

۱۶۶. بعد از چه مدتی عدم ارائه نقایص دادخواست به دفتر دادگاه موجب صدور قرار رد دادخواست می‌گردد؟

(۱) ۷ روز (۲) ۱۰ روز (۳) ۱۴ روز (۴) ۲۰ روز

۱۶۷. مهلت قانونی درخواست اعاده دادرسی برای اشخاص مقیم ایران و مقیم خارج ایران به ترتیب در کدام گزینه

درست ذکر شده است؟

(۱) ۱۰ روز - ۱ ماه (۲) ۴۰ روز - ۱ ماه (۳) ۲۰ روز - ۲ ماه (۴) ۱۴ روز - ۲ ماه

۱۶۸. اگر دعوی طرح شده قبلاً بین همان اصحاب دعوی طرح شده باشد و با همان موضوع نسبت به آن قرار

سقوط دعوی صادر شده باشد، حکم دادگاه کدام است؟

(۱) قرار رد دادخواست (۲) قرار ابطال دادخواست

(۳) قرار رد دعوی (۴) قرار سقوط دعوی اعتبار امر قضاوت شده را ندارد

۱۶۹. عده وفات زن باردار کدام است؟

(۱) تا زمان وضع حمل

(۲) چهار ماه و ده روز

(۳) در نکاح موقت ۴۵ روز و در نکاح دائم سه ماه و ۱۰ روز.

(۴) چهار ماه و ده روز مگر نه آنکه بعد از آن وضع حمل کند که در این حال تا زمان وضع حمل ادامه دارد.

۱۷۰. اگر مستأجر بعد از مدت اجاره و یا اجازه موجر، عین مستأجره را در تصرف خود نگه دارد کدام گزینه صحیح

است؟

(۱) موجر مجاز است بنا به تشخیص خود هر کدام از اجرت‌المثل یا اجرت‌المسمی را از مستأجر مطالبه کند.

۲) اگر مستأجر استیفاء منفعت کرده باشد، موجر می‌تواند مطالبه اجرت‌المثل دریافت کند.

۳) اگر مستأجر استیفاء منفعت کرده باشد، موجر می‌تواند اجرت المسمی نماید.

۴) در هر حال موجر می‌تواند اجرت‌المثل خود را مطالبه کند.

۱۷۱. وقف کردن زمینی که حق ارتفاق از آن به دیگری تعلق دارد چه حکمی خواهد داشت؟

۱) باطل است

۲) غیر نافذ است

۳) صحیح است

۴) تا اتمام حق ارتفاق باطل است

۱۷۲. اگر یکی از شرکای زمین مشاع در مقام بیع، سهم خود را به دیگری صلح نماید، کدام صحیح است؟

۱) شریک دیگر حق شفعه ندارد.

۲) شریک دیگر حق شفعه دارد

۳) اگر صلح معوض باشد حق شفعه دارد.

۴) اگر صلح غیرمعوض باشد حق شفعه دارد.

۱۷۳. در دعاوی حقوقی در برابر اسناد رسمی، کدام ادعاها مسموع است؟

۱) انکار

۲) جعل

۳) تردید

۴) غبن

۱۷۴. کدام گزینه از شروط ترک تابعیت ایران نمی‌باشد؟

۱) رسیدن به سن ۲۵ سال تمام

۲) انجام خدمت وظیفه عمومی

۳) کسب اجازه قانونی

۴) عدم محکومیت کیفری

۱۷۵. قبض در عقد وقف ...؟

۱) تداوم آن شرط لازم است.

۲) شرط لزوم است

۳) تأثیری ندارد

۴) شرط صحت است

۱۷۶. کدام یک از گزینه های زیر از شرایط تهاتر دو دین محسوب نمی‌گردد؟

۱) جنس واحد

۲) اتحاد سبب

۳) اتحاد مکان تأدیه

۴) اتحاد زمان تأدیه

۱۷۷. کدام موارد قابل تؤکید نیستند؟

۱) قبول، سوگند، اعسار، اقرار، لعان و ایلاء

۲) رد، سوگند، شهادت، اقرار، لعان و ایلاء

۳) سوگند، شهادت، اعسار، لعان و ایلاء

۴) سوگند، شهادت، اقرار، لعان و ایلاء

۱۷۸. تأخیر در جلسه دادرسی توسط دادگاه به چه میزان و با چه شرایطی مجاز است؟

- (۱) می‌توان به درخواست متداعیین و یا وکلای آنان در صورت دلیل موجه به دفعات به تأخیر انداخت
- (۲) فقط در صورت درخواست متداعیین حداکثر ۲ نوبت برای هر یک از طرفین
- (۳) به درخواست و رضایت اصحاب دعوا فقط برای یک نوبت
- (۴) در صورت عدم تکمیل مدارک بدون محدودیت

۱۷۹. کدام یک از خيارات مختص بیع است؟

- (۱) خيار عيب
- (۲) خيار تدليس
- (۳) خيار مجلس
- (۴) خيار غبن

۱۸۰. در صورتی که شخصی دارای دیون متعدد باشد، اینکه تأدیه از بابت کدام دین انجام می‌گردد با کدام یک خواهد بود؟

- (۱) مدیون
- (۲) دادگاه
- (۳) دائن
- (۴) عرف

۱۸۱. ضامن شدن از محجور و میت از لحاظ قانونی چه حکمی دارد؟

- (۱) صحیح است
- (۲) باطل است
- (۳) از میت باطل - از محجور صحیح
- (۴) از میت باطل - از محجور غیر نافذ

۱۸۲. اگر مالی غصب شود و در همین حین در اثر رخداد های قهری دچار خسارت شود، مسئولیت خسارت به عهده کیست؟

- (۱) کلاً به عهده غاصب است
- (۲) فقط به میزان استفاده از مال به عهده غاصب است
- (۳) به عهده مالک و غاصب توأم است
- (۴) بر اساس عرف و نظر قاضی تعیین می‌شود

۱۸۳. اگر کارمندی در حین انجام وظیفه موجب بروز خسارتی شود، مسئولیت آن به عهده کیست؟

- (۱) کارمند به شرط عدم نقص وسائل اداره
- (۲) دولت و کارمند توأم
- (۳) فقط دولت مسئول است
- (۴) با تشخیص قاضی است

۱۸۴. اگر متهمی که سابقه محکومیت قطعی به جعل دارد، مجدداً مرتکب یک فقره کلاهبرداری شود، در این مورد چه تأمینی صادر می‌گردد؟

- (۱) قرار كفالت
- (۲) قرار وثیقه
- (۳) قرار بازداشت موقت
- (۴) به تشخیص قاضی است

۱۸۵. چه زمانی حضور وکیل مدافع در محاکمات کیفری اجباری است؟

- (۱) هرگاه رییس لازم بداند

(۲) به دستور عالی‌ترین مقام قضایی

(۳) به درخواست متهم

(۴) در مواردی که مجازات اعدام یا حبس ابد در پی دارد

۱۸۶. حکم کیفری چه زمانی غیابی صادر می‌شود؟

(۱) متهم در جلسات دادگاه حاضر نشود

(۲) متهم وکیل معرفی کند و در دادگاه حاضر نشود

(۳) متهم لایحه دفاعیه ارسال کرده و در دادگاه حاضر نشود

(۴) متهم در جلسات دادگاه حاضر نشود، وکیل معرفی نکرده و لایحه نداده باشد.

۱۸۷. تجدیدنظر از احکام اعدام و رجم، قطع عضو و قصاص نفس و ضبط اموال و حبس بیش از ده سال در

صلاحیت کدامیک از مراجع قضایی است؟

(۲) دیوان عالی کشور

(۱) دادگاه تجدید نظر استان

(۴) دادگاه انقلاب استان

(۳) رییس کل دادگستری استان

۱۸۸. مرجع رسیدگی کننده به جرایمی همچون قاچاق اسلحه کدام مرجع زیر است؟

(۲) دادگاه عمومی صالحه

(۱) دادگاه نظامی استان

(۴) دادگاه ویژه جرایم امنیتی

(۳) دادگاه انقلاب

۱۸۹. کدام گزینه صحیح است؟

(۱) مطابق قانون شاکی خصوصی همان مدعی خصوصی است.

(۲) منجی علیه مدعی خصوصی محسوب می‌شود

(۳) شاکی خصوصی اگر دادخواست حقوقی تسلیم نکند، مدعی خصوصی محسوب می‌شود

(۴) در دادرسی‌های کیفری، متضرر از جرم شاکی خصوصی و در دادرسی‌های مدنی، مدعی خصوصی است.

۱۹۰. در جرایم غیرقابل گذشت چنانچه پس از قطعیت یافتن حکم، شاکی از شکایت خود صرف نظر کند، وظیفه

دادگاه چیست؟

(۱) موظف است تخفیف اعمال کند.

(۲) در صورت اقتضاء مجاز به اعمال تخفیف است.

(۳) در صورتی که اجرای حکم شروع نشده باشد موظف به اعمال تخفیف است.

(۴) هیچ‌گونه تأثیری ندارد.

۱۹۱. اگر محکوم علیه به علت اتهامی که در پرونده مطرح بوده است بازداشت بوده و بعداً حکم لازم‌الاجرا برای او

صادر شود در خصوص مدت بازداشت او کدام یک صحیح است؟

(۱) اگر بازداشت موقت باشد در مقدار حبس او محاسبه نخواهد شد.

(۱) اگر بازداشت موقت باشد در مدت حبس او کسر خواهد شد.

(۳) در هر صورت مدت بازداشت قبلی از مدت حبس قانونی کسر می‌شود

(۴) بازداشت قبلی متهم تأثیری در مدت اجرای حکم حبس ندارد.

۱۹۲. اگر متهمی با صدور قرار قبولی کفالت بطور موقت آزاد شده باشد و در این حین کفیل فوت نماید تکلیف

قانونی چیست؟

(۱) بلافاصله حکم بازداشت متهم صادر می‌شود

(۲) وجه الکفاله از اموال متوقف وصول می‌گردد

(۳) وراث قانونی کفیل، نسبت به ادامه قرار کفالت تصمیم‌گیری می‌کنند

(۴) به متهم ابلاغ می‌شود کفیل دیگری معرفی کند

۱۹۳. اگر دادگاه شاهی را در رسیدگی به یک پرونده کیفری احضار کند ...؟

(۱) اگر شاهد حضور نیابد، دستور جلب او صادر می‌شود

(۲) شاهد می‌تواند بطور اختیاری در دادگاه حاضر شود.

(۳) اگر شاهد دو بار احضار و از حضور سر باز زند جلب می‌شود

(۴) در صورت امتناع شاهد از حضور در دادگاه، بازپرس در محل از وی تحقیق می‌کند

۱۹۴. مطابق قانون دادخواست ضرر و زیان در چه زمانی باید تقدیم دادگاه شود؟

(۱) قبل از اعلام ختم دادرسی

(۲) همزمان با اولین جلسه دادرسی

(۳) همزمان با اعلام ختم دادرسی

(۴) همزمان با تسلیم شکایت کیفری

۱۹۵. جرایم سیاسی مطبوعاتی توسط کدام مرجع رسیدگی می‌شود؟

(۱) دادگاه کیفری استان

(۲) دادگاه عمومی استان

(۳) دادگاه انقلاب اسلامی

(۴) دادگاه ویژه رسیدگی به جرایم کارکنان دولت

Direction: Choose the one word or phrase that best completes the sentences. Then mark the correct choice on your answer sheet.

196. I had never seen that lady before, I recognized her from a picture.

- 1) since 2) unless 3) whether 4) unless

197. Most students think about their examination papers others do not.

- 1) When 2) so that 3) whereas 4) because

198. Mary has hair.

- 1) Beautiful long black 2) Beautiful black long
3) black beautiful long 4) long beautiful black

199. the townattacked several times since the beginning of the war.

- 1) is 2) was 3) has been 4) had been

200. I've lost one of my gloves. I it somewhere.

- 1) must drop 2) should drop
3) should have dropped 4) must have dropped

201. The newhas shown that human language is much older than we previously thought.

- 1) practice 2) research 3) service 4) interest

202. If a computerinformation. it performs a particular series of operation on the information.

- 1) handles 2) employs 3) processes 4) completes

203. Crossing the North Pole on foot was a surprising fact of human

- 1) Missionary 2) endeavors 3) assignment 4) competition

204. she hasher family and refuses to have any contact with them.

- 1) denied 2) designed 3) recalled 4) involved

205. These books are divided into.....according to subject.

- 1) categories 2) proportion 3) strategies 4) references

206. The lenses.....his eyes to the size of dinner plates.

- 1) magnified 2) recognized 3) exemplified 4) emphasized

207. A movement of your hands, arms, or head that shows how you feel or think is called
- 1) puzzle 2) struggle 3) pressure 4) gesture
208. what's the matter with Ali? He seems to besomething.
- 1) similar to 2) subordinate to 3) worried about 4) responsible for
209. We were in a/anstate last night because of the exploding.
- 1) amusing 2) shocking 3) confusing 4) relaxing
210. They have become.....disturbed as a result of their poor performance on the exams.
- 1) efficiently 2) physically 3) emotionally 4) fortunately

Reading comprehension

Dear sirs,

Your shipment of twelve thousand "smart" watches was received by our company this morning. However, we wish to make a number of complains concerning the serious delay in delivery and your failure to carry out our explicit instruction with regard to this order. It was stressed from the outset that the delivery date had to be less than six weeks from the initial order, in order to comply with our own customers' requirements. While we appreciate that delays in production are occasionally inevitable, we must point out that the major reason why the order was placed with your company was because we were assured by you of its straightforwardness, and that your exiting stocks were sufficiently high to ensure immediate shipment. Late delivery of the goods has caused us to disappoint several of our most valued customers, and is bound to have an adverse effect on potential future orders. The second complaint concerns the discrepancy in colour between the watches we ordered and those delivered. It was stated clearly in the original order that watches in combination of green/ purple and orange / purple only were required. However, only half the watches in the delivery received are of the colours specified.

211. The manufactures of "smart" watches were given the order because :
- 1) They were assured and there was sufficient space for immediate shipment.
- 2) They watches would be easy to make and the design were already prepared.
- 3) They promised they could produce enough stocks quite quickly.
- 4) They claimed the order would be easy since the watches were already in stock.

212. Which of the following could best replace straightforwardness' in paragraph 2:
- 1) simplicity
 - 2) speed of delivery
 - 3) efficiency
 - 4) dirtiness
213. Late delivery will have an "adverse effect on future orders" in paragraph 2 because:
- 1) The company will no longer place orders with manufactures.
 - 2) Future orders will have to be delivers sooner.
 - 3) The company is sure to lose some of its business with its customers.
 - 4) The company will certainly have to advertise itself more effectively in future.
214. In the past sentences of paragraph 3, "specified colors" refers to:
- 1) the wrong colors
 - 2) watches of the colors
 - 3) the colors originally ordered
 - 4) none of the above
215. Which of the following best describe the general tone of the letter:
- 1) angry and aggressive
 - 2) firm but polite
 - 3) reasonable but impolite
 - 4) polite but forgiving

پاسخنامه

گزینه صحیح	شماره سؤال
۱	۶۱
۱	۶۲
۳	۶۳
۲	۶۴
۴	۶۵
۲	۶۶
۴	۶۷
۱	۶۸
۱	۶۹
۴	۷۰
۲	۷۱
۳	۷۲
۳	۷۳
۳	۷۴
۴	۷۵
۱	۷۶
۲	۷۷
۲	۷۸
۲	۷۹
۲	۸۰
۳	۸۱
۲	۸۲
۲	۸۳
۱	۸۴
۱	۸۵
۲	۸۶
۱	۸۷
۴	۸۸
۲	۸۹
۳	۹۰

گزینه صحیح	شماره سؤال
۲	۳۱
۱	۳۲
۱	۳۳
۴	۳۴
۳	۳۵
۲	۳۶
۳	۳۷
۱	۳۸
۲	۳۹
۳	۴۰
۱	۴۱
۲	۴۲
۴	۴۳
۱	۴۴
۱	۴۵
۴	۴۶
۳	۴۷
۱	۴۸
۲	۴۹
۳	۵۰
۴	۵۱
۲	۵۲
۳ و ۱	۵۳
۲	۵۴
۴	۵۵
۳	۵۶
۲	۵۷
۱	۵۸
۱	۵۹
۳	۶۰

گزینه صحیح	شماره سؤال
۳	۱
۴	۲
۲	۳
۱	۴
۲	۵
۳	۶
۱	۷
۴	۸
۴	۹
۳	۱۰
۴	۱۱
۲	۱۲
۱	۱۳
۳	۱۴
۱	۱۵
۳	۱۶
۳	۱۷
۴	۱۸
۳	۱۹
۱	۲۰
۳	۲۱
۴	۲۲
۴	۲۳
۲	۲۴
۱	۲۵
۱	۲۶
۲	۲۷
۱	۲۸
۴	۲۹
۳	۳۰

گزینه صحیح	شماره سؤال
۲	۱۵۳
۳	۱۵۴
۲	۱۵۵
۴	۱۵۶
۴	۱۵۷
۳	۱۵۸
۲	۱۵۹
۱	۱۶۰
۴	۱۶۱
۴	۱۶۲
۱	۱۶۳
۱	۱۶۴
۴	۱۶۵
۲	۱۶۶
۳	۱۶۷
۳	۱۶۸
۴	۱۶۹
۳	۱۷۰
۳	۱۷۱
۱	۱۷۲
۱	۱۷۳
۱	۱۷۴
۴	۱۷۵
۲	۱۷۶
۳	۱۷۷
۱	۱۷۸
۲	۱۷۹
۴	۱۸۰
۴	۱۸۱
۲	۱۸۲
۱	۱۸۳

گزینه صحیح	شماره سؤال
۲	۱۲۲
۳	۱۲۳
۲	۱۲۴
۴	۱۲۵
۱	۱۲۶
۲	۱۲۷
۱	۱۲۸
۴	۱۲۹
۴	۱۳۰
۴	۱۳۱
۳	۱۳۲
۱	۱۳۳
۱	۱۳۴
۱	۱۳۵
۳	۱۳۶
۴	۱۳۷
۱	۱۳۸
۲	۱۳۹
۳	۱۴۰
۱	۱۴۱
۱	۱۴۲
۳	۱۴۳
۴	۱۴۴
۴ و ۲	۱۴۵
۲	۱۴۶
۱	۱۴۷
۴	۱۴۸
۴	۱۴۹
۴	۱۵۰
۴	۱۵۱
۱	۱۵۲

گزینه صحیح	شماره سؤال
۳	۹۱
۱	۹۲
۴	۹۳
۳	۹۴
۲	۹۵
۴	۹۶
۳	۹۷
۴	۹۸
۲	۹۹
۱	۱۰۰
۳	۱۰۱
۴	۱۰۲
۲	۱۰۳
۳	۱۰۴
۲	۱۰۵
۱	۱۰۶
۳	۱۰۷
۲	۱۰۸
۳	۱۰۹
۱	۱۱۰
۳	۱۱۱
۲	۱۱۲
۱	۱۱۳
۴	۱۱۴
۳	۱۱۵
۳	۱۱۶
۲	۱۱۷
۴	۱۱۸
۳	۱۱۹
۴	۱۲۰
۴	۱۲۱

شماره سؤال	گزینه صحیح
۲۱۵	۲

شماره سؤال	گزینه صحیح
۱۸۴	۳
۱۸۵	۴
۱۸۶	۴
۱۸۷	۲
۱۸۸	۳
۱۸۹	۳
۱۹۰	۲
۱۹۱	۳
۱۹۲	۴
۱۹۳	۳
۱۹۴	۱
۱۹۵	۱
۱۹۶	۴
۱۹۷	۳
۱۹۸	۱
۱۹۹	۳
۲۰۰	۴
۲۰۱	۲
۲۰۲	۳
۲۰۳	۲
۲۰۴	۱
۲۰۵	۲
۲۰۶	۱
۲۰۷	۴
۲۰۸	۳
۲۰۹	۲
۲۱۰	۳
۲۱۱	۴
۲۱۲	۴
۲۱۳	۳
۲۱۴	۳

WWW.IRANARZE.IR